

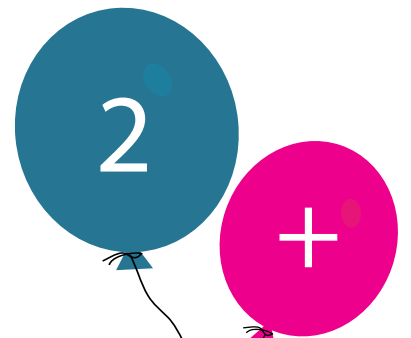





Tegne Regne Proven



Elevehäfte

Tegneoppgaver i matematikk


Navn: _____ Klasse: _____

Vis en elev hvordan du tenker når du løser disse oppgavene. Da må du lage tegninger som 1. klassinger forstår.

Se på dette eksempelet:

Per har 8 ballonger. Først sprekker 2 ballonger, etterpå sprekker 3 ballonger. Hvor mange ballonger har Per igjen?

Tegning:



Svar:

3 ballonger

Oppgave 1

Mor har bakt 25 boller som hun la på et brett.
Hun gir Kari, Rolf og Lise 4 boller hver.
Hvor mange boller ligger igjen på brettet?

Tegning:

Svar: _____

Oppgave 2

Kristian har 16 ballonger.

Hvor mange ballonger har han igjen når han har gitt bort 4 gule, 3 røde og 5 blå ballonger?

Tegning:

Svar: _____

Oppgave 3

Lise har 12 klinkekuler.

Hun tapte 7 kuler, men etterpå vant hun 8 kuler.

Hvor mange kuler har hun til slutt?

Tegning:

Svar: _____

Oppgave 4

I en pose er det 18 karameller.

Ivar delte dem likt mellom seg og 3 gutter.

Ivar fikk i tillegg resten av karamellene.

Hvor mange karameller fikk Ivar?

Tegning:

Svar: _____

Oppgave 5

Fem barn plukket plommer.

Hvert barn plukket 4 kg.

Hvor mange kilo plommer plukket de til sammen?

Tegning:

Svar: _____

Oppgave 6

I et hus er det 3 etasjer.

I hver etasje er det 5 vinduer.

Hvert vindu er delt i 2 glassruter.

Hvor mange glassruter er det i hele huset?

Tegning:

Svar: _____

Oppgave 7

Lise er 15 år.

Lise er 3 år eldre enn Knut. Hvor gammel er Knut?

Knut er 10 år eldre enn Eva. Hvor gammel er Eva?

Tegning:

Svar: _____

Tegn de oppgavene som kommer her så enkle som mulig.

Oppgave 8

I en stall er det 25 hester.

Lise, Eva og Anne har ansvar for å stelle 4 hester hver.

Bonden på gården steller resten av hestene.

Hvor mange hester må bonden stelle selv?

Tegning:

Svar: _____

Oppgave 9

Tegn så mange mynter og sedler som disse tallene viser:

4 35 206 634

Tegning:

Svar: _____

Oppgave 10

Fortsett å tegne penger.

Mor tjener kr. 16.000,- hver måned.

Hver måned betaler hun kr. 4000,- i husleie, kr. 3000,- til barnehagen og kr. 5000,- i andre regninger.

Hvor mye penger har mor igjen?

Tegning:



Oppgave 11

Ole begynte å regne oppgave nr. 3 i matematikkboka. Da timen var slutt, hadde han regnet til og med oppgave nr. 7. Hvor mange oppgaver hadde Ole regnet den timen?

Tegning:

Svar: _____

Oppgave 12

En buss bruker 40 minutter fra Vik til Høgda.
Bussen går fra stoppestedene hvert 5. minutt.
Hvor mange stoppesteder er det på denne strekningen?

Tegning:


Svar: _____

Oppgave 13

En skoleklasse på 28 elever dro på klassesetor.
Foreldrene kjørte elevene i biler som har plass til 5 personer.
Hvor mange biler måtte det til for å få plass til alle elevene?

Tegning:

Svar: _____



Utgitt i 2008 av "Drodleggruppen"

Trykket av Torshov kompetansesenter

Besøksadresse: Bredtvetveien 4

Postboks 13

0901 Oslo

E-post: torshov@statped.no

Internett: www.statped.no/torshov

Grafisk design: Vibeke Saltveit

ISBN 978-82-92594-05-6